







Escribe oraciones según el ejemplo y después léelas a tu pareja.



El dos de corazones es más pequeño que el diez de picas.




1. _____




2. _____



3. _____



4. _____



5. _____



Las respuestas de tu compañero /a de clase.

- 6. El seis de tréboles es más pequeño que el nueve de picas.
- 7. El siete de corazones es más pequeño que el ocho de diamantes.
- 8. El ocho de picas es más grande que el siete de tréboles.
- 9. El cinco de diamantes es más grande que el tres de tréboles.
- 10. El ocho de corazones es más pequeño que el nueve de picas.



corazones



picas



diamantes




tréboles



Pareja

B


Escribe oraciones según el ejemplo y después léelas a tu pareja.




El dos de corazones es más pequeño que el diez de picas.




6. _____





7. _____




8. _____



9. _____



10. _____



Las respuestas de tu compañero /a de clase.

1. El nueve de tréboles es más grande que el siete de diamantes.
2. El seis de picas es más grande que el cuatro de tréboles.
3. El tres de diamantes es más pequeño que el ocho de corazones.
4. El dos de tréboles es más pequeño que el cinco de diamantes.
5. El ocho de picas es más grande que el cuatro de corazones.